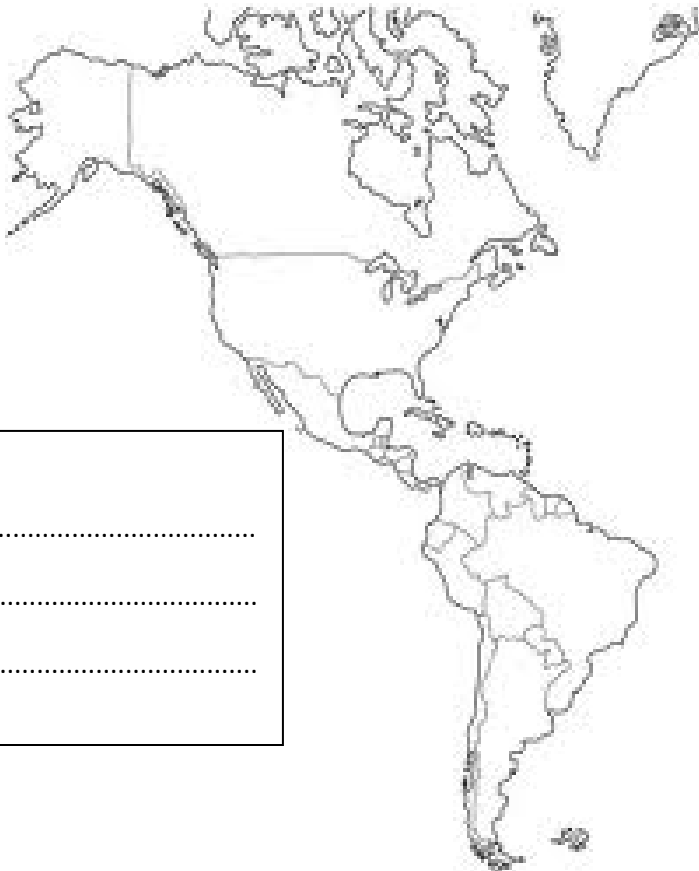


Guía de Historia, Geografía y Ciencias Sociales
"IMPERIO INCA"

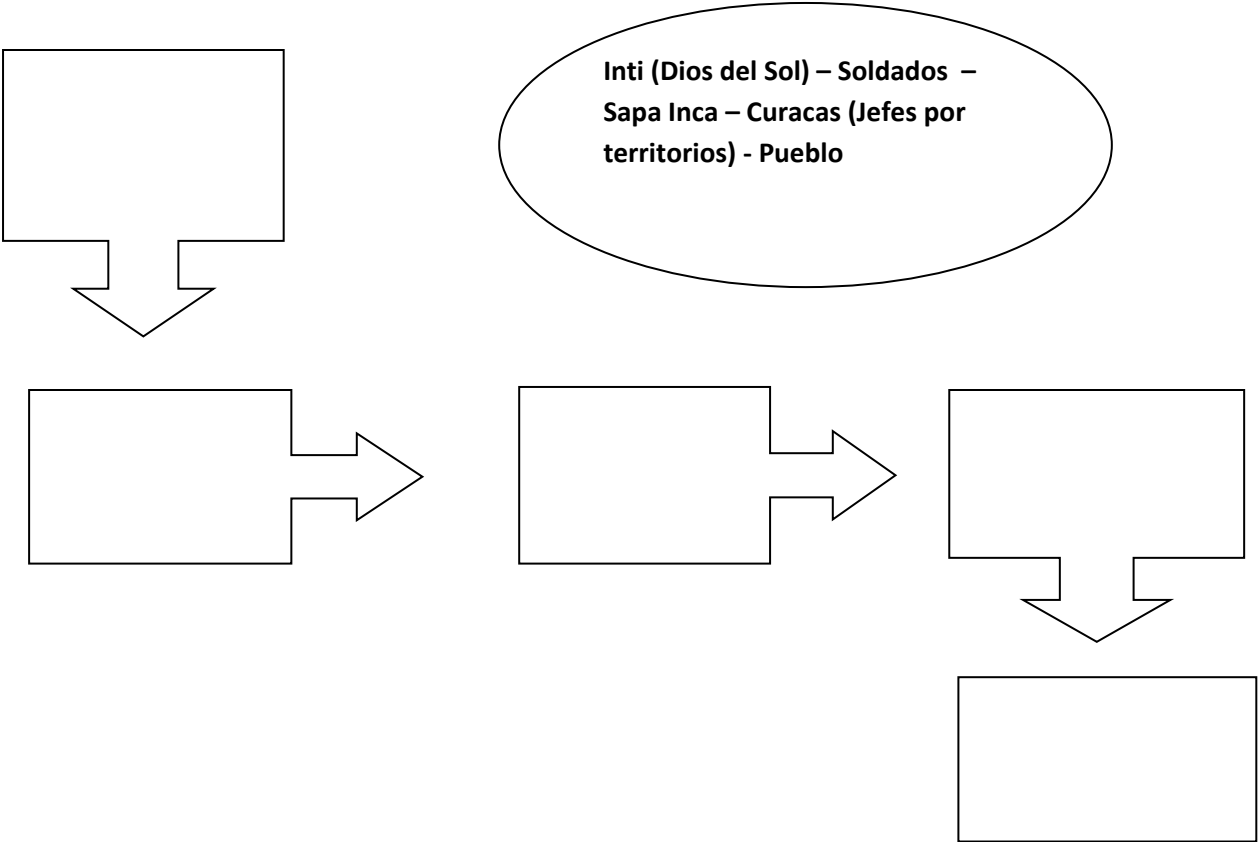
Nombre: Fecha:.....

I.- Pinta y escribe en el mapa la ubicación del Imperio INCA.




Se ubicaban en:

II.- Transcribe de mayor a menor grado de importancia la sociedad del Imperio Inca en los siguientes cuadros:



III.- Con la ayuda de tu texto, completa respondiendo cada pregunta y descubre la palabra secreta.



- 1.- Conjunto de soldados profesionales y hombres que cumplían el servicio militar.
- 2.- Posadas construidas a lo largo del camino del imperio.
- 3.- Cuerdas anudadas que se usaban como sistema de contabilidad.
- 4.- Idioma de los incas.
- 5.- Jefe Local de un territorio del Imperio.
- 6.- Nombre que recibía el Imperio de los Incas.
- 7.- Ciudad capital del Imperio Inca.
- 8.- Gobernante del Imperio Inca.
- 9.- Dios del Sol.
- 10.- Funcionario que llevaba la contabilidad del Imperio.
- 11.- Mensajero del correo imperial.

IV.- Describe la principal actividad económica que realizaba el Imperio Inca.



Nuestra principal actividad económica fue:

.....

.....